



Zeměpisné

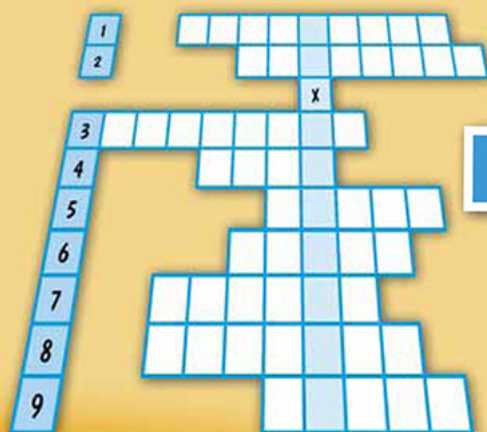



HRÁTKY

Jana Mlynářová

pro děti

| | | |
|---------------|-----|----|
| Ledovce | ANO | NE |
| Pralesy | ANO | NE |
| Fjordy | ANO | NE |
| Hory | ANO | NE |
| Savany | ANO | NE |
| Lesy | ANO | NE |
| Řeky a jezera | ANO | NE |



Česká republika

další evropské země

v křížovkách

a rébusech

edika

Zeměpisné hry pro děti

Vyšlo také v tištěné verzi

Objednat můžete na
www.edika.cz
www.albatrosmedia.cz



Jana Mlynářová
Zeměpisné hry pro děti – e-kniha
Copyright © Albatros Media a. s., 2016

Všechna práva vyhrazena.
Žádná část této publikace nesmí být rozšiřována
bez písemného souhlasu majitelů práv.

ALBATROS  **MEDIA** a.s.

Jana Mlynářová

Zeměpisné hry pro děti

Česká republika a další evropské země
v křížovkách a rébusech

Obsah

| | | | |
|--|----|-----------------------|----|
| DÁNSKÉ KRÁLOVSTVÍ | 7 | ŠPANĚLSKO | 59 |
| NORSKÉ KRÁLOVSTVÍ | 11 | SLOVENSKO | 63 |
| ČESKÁ REPUBLIKA | 15 | ŠVÉDSKO | 67 |
| ŠVÝCARSKO | 27 | RAKOUSKO | 71 |
| ITÁLIE | 31 | PORTUGALSKO | 75 |
| ŘECKO | 35 | FINSKO | 79 |
| MAĎARSKO | 39 | POLSKO | 83 |
| FRANCIE | 43 | ISLAND | 87 |
| NIZOZEMSKO | 47 | BULHARSKO | 91 |
| SPOLKOVÁ REPUBLIKA NĚMECKO | 51 | ŘEŠENÍ VYBRANÝCH ÚLOH | 95 |
| SPOJENÉ KRÁLOVSTVÍ VELKÉ BRITÁNIE A SEVERNÍHO IRSKA | 55 | | |



*Vydej se s námi na cestu dalekou,
projedeme se Evropou.
Snad rád bys poznal každou zem,
nakoukneme tam i sem.
Nebude to snadná cesta,
ty sám musíš objevit,
pomůžou ti rady, hesla,
kterou zem jdeme navštívit.
V textu chybí nadpis, stát,
dopiš, najdi, lušti, doplň,
budeme si trochu hrát,
správnou odpovědí všechny oslň.*



JAKÁ JE TO ZEMĚ?

Naši první zastávkou je:

| | | | | | |
|--|--|--|--|--|--|
| | | | | | |
|--|--|--|--|--|--|

- ? Poznáš zemi, o které se mluví v básničce? Odpověď zapiš.
- ? Jeden obrázek sem nepatří. Poznáš který? Škrtni ho.



*Tahle země placatá,
dunami písku zavátá,
na poloostrově tu leží,
přes ostrovy dál si běží,
mosty je pak spojuje,
pod mosty loď propluje.*

*Dětičky jsou jako v ráji,
s kostkou lega si tu hrají,
pohádky od Andersena slyš,
o malé mořské víle jistě víš,
jak v Kodani na pobřeží sedí,
na turisty smutně hledí.*

*K moři mají všude blízko,
žádné kopce, vše je nízko,
na pastvinách pasou skot,
z větrníků už je plot.
Na kolech to bezva sviští,
sem povede cesta příští.*



DÁNSKÉ KRÁLOVSTVÍ

① Vyznač zemi na mapě a doplň chybějící údaje.



Hlavní město

Největší města

Sousední státy

Rozloha země

43 094 km²

Nejnižší bod

Lammefjord (-7 m n. m.)

Nejvyšší bod

Møllehøj (171 m n. m.)

② Vyškrtni, co v zemi určitě nenajdeš.

sopky

ostrovy

nížiny

písečné duny

vysoké hory

③ Kterou z pohádek nenapsal největší pohádkář Hans Christian Andersen? Škrtni ji.

PRINCEZNA NA HRÁŠKU

OŠKLVÉ KÁČÁTKO

PASÁČEK VEPŘŮ

FIMFÁRUM

SNĚHOVÁ KRÁLOVNA

MALÁ MOŘSKÁ VÍLA

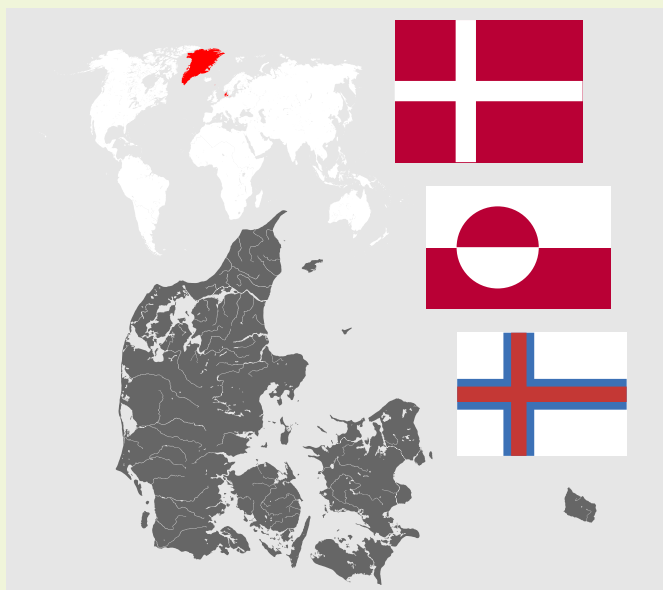
④ K zemi patří dvě velmi vzdálené autonomní oblasti. Doplň, jak se jmenují. Poradí ti jejich hlavní města a poloha na mapě světa. Obě oblasti jsou ostrovní.

hlavní město Nuuk

nápověda:
největší ostrov světa


hlavní město Tórshavn

nápověda:
v překladu Ovčí ostrov



5 V tajence najdeš název poloostrova, na kterém velká část země leží.

1. největší dánský ostrov (kromě Grónska)
2. úžina mezi Dánskem a Švédskem
3. lodní doprava mezi poloostrovem a ostrovy
4. autor Hamleta, jehož děj se odehrává na zámku v Dánsku
5. státní zřízení Dánska
6. krajinu zdobí větrné



6 Ve městě Billund můžeš navštívit zmenšený svět postavený z kostek. O co se jedná? Zakroužkuj.



DISNEYLAND

LEGOLAND

DINOPARK

7 Víš, kdo v zemi vládne? Zakroužkuj.

PREZIDENT

PRINCEZNA

PRINC

KRÁLOVNA

KRÁL

CÍSAŘOVNA

CÍSAŘ

8 Víš, jaký je oficiální jazyk této země? Škrtni obdélníky, které neobsahují správnou odpověď.

čeština
slovenština

angličtina
němčina
francouzština

dánština

JAKÁ JE TO ZEMĚ?

V této zemi najdeš
nejvyšší evropský
vodopád:

| | | | | | |
|--|--|--|--|--|--|
| | | | | | |
|--|--|--|--|--|--|

? O které zemi se vypráví v básničce? Napiš název.

? Najdi a škrtni obrázek, který sem nepatří.



*Zavítejme na sever,
kde leží krásná zem.
Vikingové dali zemi rád,
zimní sporty každý má tu rád.
Voda, hory, sobí kraj,
i ledovce tu maj'.
Příroda je divoká,
řeky, fjordy plné ryb,
kdekdo sem rád zavítá,
a snad chtěl by tu i žít.*



*Vody valí se obrovské množství,
v zimě se zem změní na království,
na království sněhobílé,
na zemi vodní energie.*

*Moře je tu bohaté,
dává ropu, zemní plyn,
dlouhé zimní večery
halí jen polární stín.*

*Kdo tu byl, tak rád přijede zas,
obrázky z divoké krajiny
vždy potěší nás.*

*Na trajektu sbohem dám
a zemi dlouze zamávám.*



NORSKÉ KRÁLOVSTVÍ

① Vyznač zemi na mapě a doplň chybějící údaje.



Hlavní město

Největší města

Sousední státy

Rozloha země

Počet národních parků

44 (37 na pevnině a 7 na Špicberkách)

② Je to stát, kde můžeš narazit na trolly. Kdo jsou trollové a jak vypadají? Vyber odpověď.

Drobní mořští živočichové,
kteří slouží jako potrava pro
lososy i velryby.

Lidé, kteří žijí vysoko
v horách a za polárním
kruhem v kraji Trolsko.

Noční skřítki s křivým
nosem, čtyřmi prsty
a chlupatým ocasem.

③ Vyber mezi mysy ten, který je nejsevernějším mysem evropské pevniny. Podtrhni.

mys Roca

Zelený mys

Arkona

Nordkinn

Čeljuskinův mys

④ Příroda je divoká, úchvatná i drsná zároveň. Které přírodní prvky tvoří zdejší krajinu? Zakroužkuj.

| | | |
|---------------|-----|----|
| Ledovce | ANO | NE |
| Pralesy | ANO | NE |
| Fjordy | ANO | NE |
| Hory | ANO | NE |
| Savany | ANO | NE |
| Lesy | ANO | NE |
| Řeky a jezera | ANO | NE |



⑤ Díky teplému mořskému proudu jsou zde nezamrzající přístavy. Které to jsou? Vyber bublinu.

Porto
Lisabon

Hamburk
Rostock
Brémy
Lübeck

Bergen
Stavanger
Narvik
Trondheim

6 V hlavním městě Oslu se předává Nobelova cena míru. Další kategorie se udělují ve Švédsku. Podtrhni správné kategorie a přeškrtni ty, které sem nepatří:

za fyziku

za vlastivědu

za ekonomii

za lékařství

za chemii

za sportovní výkony

za literaturu

7 Pospoj význam vody pro stát. Vytvoř dvojice.



řeky

těžba ropy a zemního plynu

mělčiny Severního moře

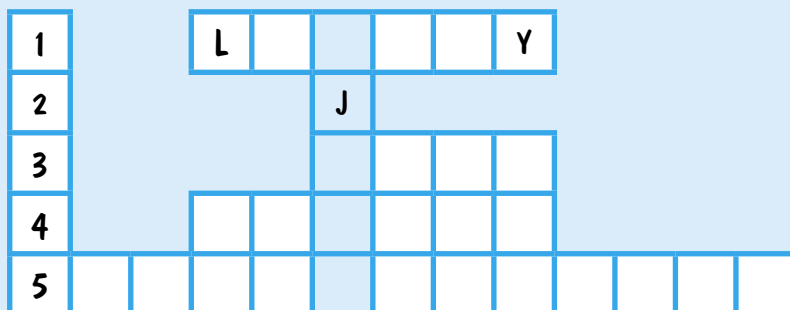
rybolov a doprava

moře

rybolov a hydroelektrárny

8 V tajence se skrývá označení pro hluboké a úzké údolí, které vytvořil ledovec a zatopilo moře.

- Souostroví na pobřeží Norska, oblíbená destinace rybářů.
- „jé“
- Hlavní město Norska
- Měna – norská
- Poloostrov, na kterém Norsko leží.



JAKÁ JE TO ZEMĚ?

Tady si můžeš zazpívat:
Kde domov můj?

| | | | | |
|--|--|--|--|--|
| | | | | |
|--|--|--|--|--|

- ? Poznáváš, v které zemi jsme tentokrát? Napiš její název.
- ? Jeden obrázek sem nepatří. Který? Označ ho.



*Tuto zemi nejlíp bys měl znát,
je to náš domovský stát,
s věncem pohraničních hor,
jinde zas řeka, louka, hustý bor.*

*Na střeše Evropy si tu sedíme,
vodu z hor do ciziny pouštíme,
jaro, léto, podzim, zima
střídá se tu, to je prima.*

*Krajina je velmi pestrá,
možná se ti to tak nezdá,
ale jsou tu skály, hory, lesy, kras,
k výletům zvou zas a zas.*

*Množství hradů, zámků, zřícenin,
Morava – kraj dobrých vín,
pozor – ale i sopečné tvary,
prostě od přírody všechny dary.*

*Tady zastavil se praotec
na kopci jménem Říp,
rozhlédl se – pohled dechberoucí:
krajina mlékem a strdím oplývající.*

*A kotlinou zaznělo:
Tady se nám bude dobře žít!*



ČESKÁ REPUBLIKA

- ① Kde v Evropě země leží? Vyznač ji.
- ② Zapiš si její hlavní město a doplň chybějící údaje.



Hlavní město

Největší města

Sousední státy

Rozloha země

78 866 km²

Největší povodí

Labe

3 Jak dobře znáš Českou republiku? Víš, co znamenají daná místa? Vyber a zakroužkuj.

Milešovka
Jizera
Brdy
Litomyšl
Ohře
Macocho

hora
přehrada
vesnice
město
nížina
sopka

rybník
řeka
vrchovina
vesnice
jeskyně
propast

řeka
hora
přehrada
hora
řeka
pohoří

4 Krajina voní, když rozkvetou místní květiny. Některé zde ale ve volné přírodě nerostou! Vyškrtni tři.

PODBĚL LÉKAŘSKÝ

JITROCEL KOPINATÝ

PRVOSENKA JARNÍ

LÁČKOVKA SOUDEČKOVÁ

MATEŘIDOUŠKA OBEČNÁ

PLESNIVEC ALPSKÝ

SMETANKA LÉKAŘSKÁ

VAVŘÍN UŠLECHTILÝ

TŘEZALKA TEČKOVANÁ



5 Které číslo je správné? Zakroužkuj. Lesnatost naší krajiny je:

přes 50 %

přes 30 %

přes 70 %

6 V rybnících a řekách dovádějí ryby. Najdi dvě, které u nás nežijí. A zakroužkuj tu, která se u nás jí na Vánoce.

lín

okoun

candát

sumec

sled'

kapr

štika

bolen

sardinka



7 Přírodu je potřeba chránit. V České republice jsou čtyři národní parky. Víš, který je:

nejstarší

nejmladší

největší

nejmenší

Šumava

KRNAP

Podyjí

České Švýcarsko

8 Když v osmisměrce vyškrtáš všechny následující řeky, objeví se ti dvě české přehrady:

| | | | | | | | |
|---|---|---|---|---|---|---|---|
| V | L | B | Ú | I | M | Ž | E |
| L | P | P | E | O | H | Ř | E |
| T | A | N | O | Č | A | Ž | E |
| A | D | Y | J | E | V | L | I |
| V | J | I | Z | E | R | A | V |
| A | E | C | I | N | Ž | U | L |
| K | M | E | T | U | J | E | A |
| B | E | R | O | U | N | K | A |

| | |
|---------|----------|
| Vltava | Metuje |
| Bečva | Ohře |
| Lužnice | Berounka |
| Úpa | Jizera |
| Dyje | Mže |
| | |

9 Seřaď hory podle nadmořské výšky od nejvyšší.

| | | | | | |
|--------|------|----------|--------|-----------|--|
| Plechý | Smrk | Klínovec | Praděd | Lysá hora | |
| | | Sněžka | | | |

| | | | | | |
|--------------|--------------|--------------|--------------|--------------|--------------|
| 1602 m n. m. | 1492 m n. m. | 1378 m n. m. | 1323 m n. m. | 1244 m n. m. | 1124 m n. m. |
| | | | | | |

10 Česká republika má bohatou historii a spoustu památek. Poznávej české hrady a zámky. Náповědou ti budou obrázky, počáteční a koncová písmena.

HRADY



| | | | | | |
|---|--|--|--|---|---|
| K | | | | T | |
| L | | | | T | |
| T | | | | | Y |



| | | | | | | | | |
|---|--|--|--|--|---|--|--|---|
| B | | | | | Z | | | |
| B | | | | | V | | | |
| K | | | | | | | | N |

ZÁMKY



| | | | | | | | | |
|---|--|--|---|---|---|---|--|---|
| L | | | | | | E | | |
| Č | | | Ý | K | | | | V |
| H | | | | | Á | | | |
| Č | | | | Á | L | | | A |



Toto je pouze náhled elektronické knihy. Zakoupení její plné verze je možné v elektronickém obchodě společnosti eReading.